

ALUNO: \_\_\_\_\_

6º ANOS: A, B, C, D

DISCIPLINA: História

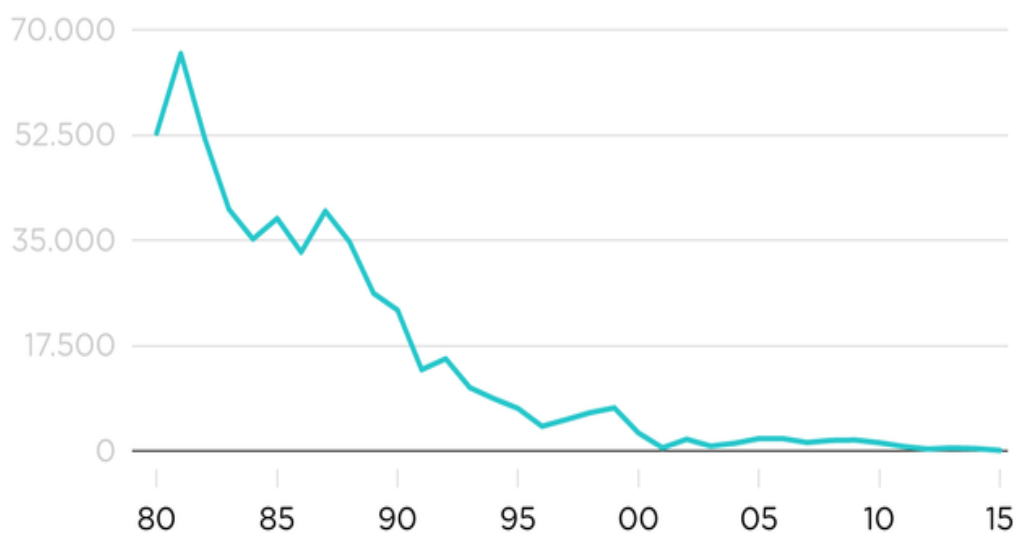
PROFESSORES: Luciana e José

- **Alunos com acesso à internet**, deverão copiar e responder as perguntas no caderno. *\*TEXTOS E GRÁFICOS, NÃO É NECESSÁRIO COPIAR\**. Fotografar e enviar para o professor José.
- **Alunos sem acesso**, responder na própria folha para a escola encaminhar aos professores de História.

**ORIENTAÇÕES**

- **ANALISE OS GRÁFICOS abaixo** e responda as questões sobre a importância das vacinas ao longo da História do Brasil:

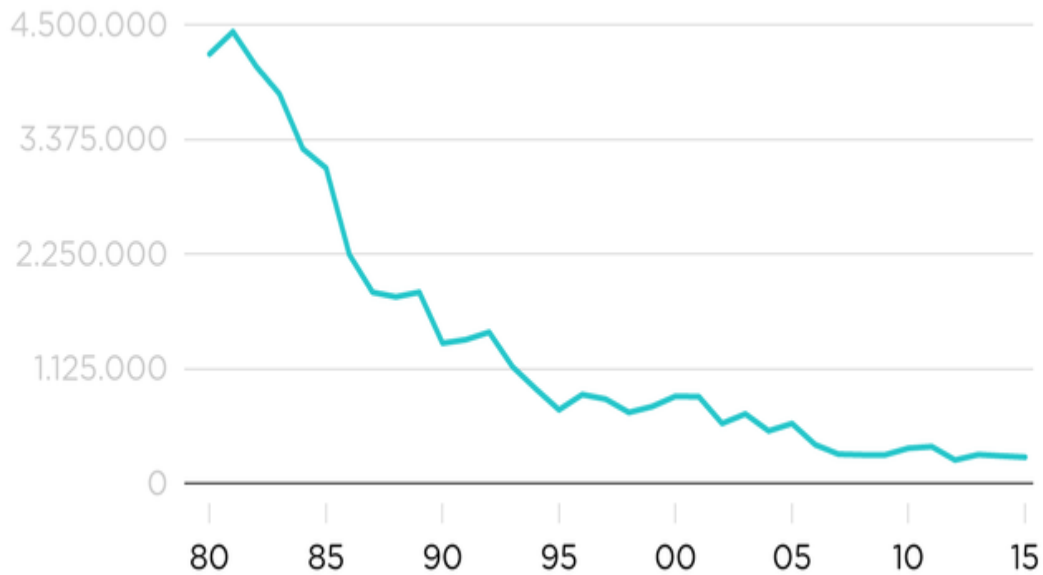
Casos de poliomielite por ano



Fonte: Organização Mundial da Saúde

NEXO

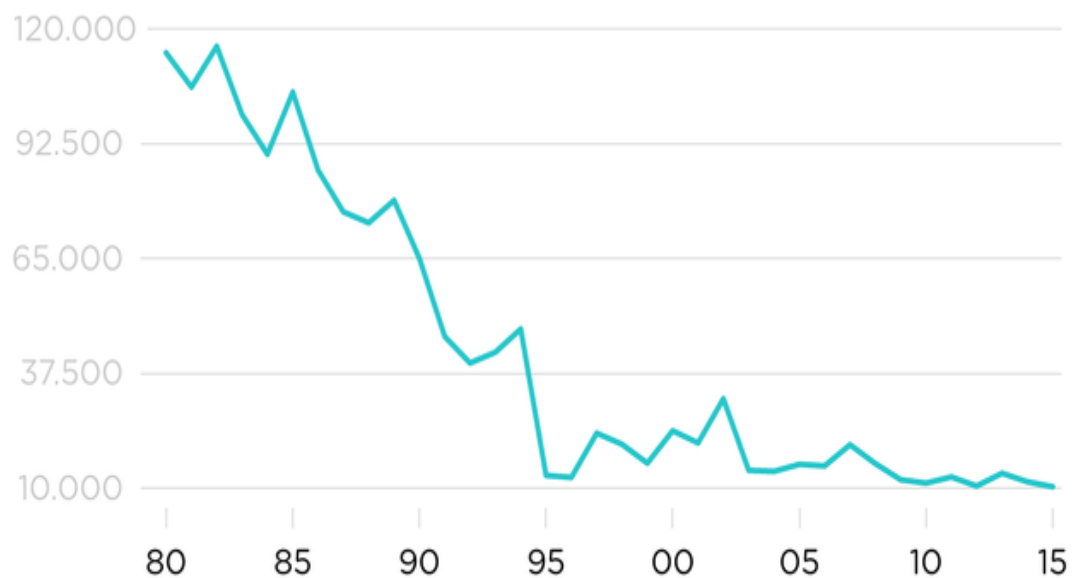
### Casos de sarampo por ano



Fonte: Organização Mundial da Saúde

NEXO

### Casos de tétano por ano



Fonte: Organização Mundial da Saúde

NEXO

- 1.) Escreva o número de casos de cada doença, entre 1980 e 1985, colocando o número de casos a cada ano apresentado.

**Ex. Sarampo: 1980 – 4 milhões e meio; 1985 – 3.375.000 milhões e assim por diante...**

- 2.) Os casos **aumentaram** ou **diminuíram** ao longo do tempo? Por que você acredita que isso ocorreu?